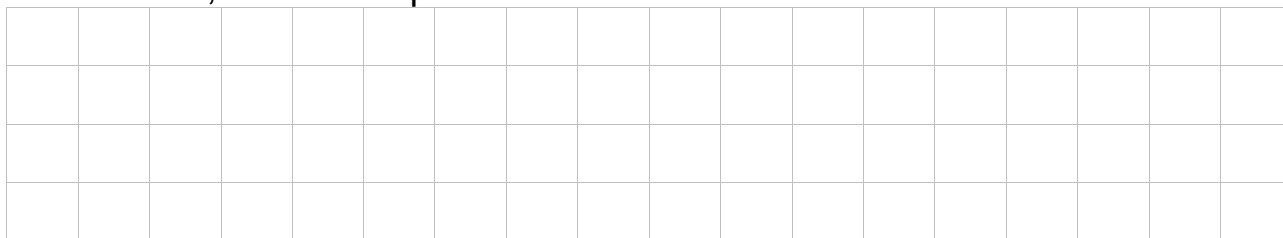
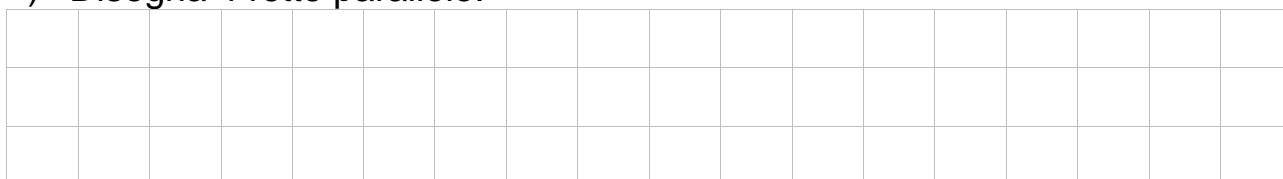


RETTE

- 1) Disegna con il colore blu una coppia di rette perpendicolari, di giallo le incidenti, di verde le parallele.




- 2) Disegna 4 rette parallele.




- 3) Disegna 3 coppie di rette incidenti




- 4) Disegna la retta r ; disegna la retta a e b incidenti alla retta r .



- 5) Disegna due rette parallele f e b ; sulla retta b disegna i punti A e B , in modo che A precede B .



6) Disegna due rette parallele **f** e **b** ; sulla retta **f** disegna i punti **A B** e **C**, in modo che **A** si trovi tra **B** e **C**.



7) **RISONDI**, colorando il riquadro giusto:

1) Le rette hanno una direzione.

V **F**

2) Due rette parallele hanno la stessa direzione.

V **F**

3) Due rette incidenti hanno la stessa direzione.

V **F**

4) Tutte le rette hanno 2 versi.

V **F**



RIPASSO: LINEE ORIZZONTALI-VERTICALI-OBLIQUE

Ripassa di giallo le linee orizzontali, di verde le verticali, di rosso le oblique.

