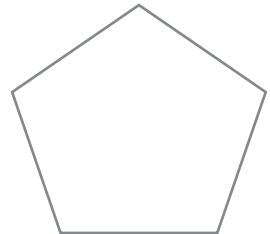
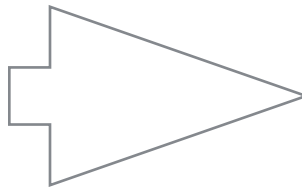


Cognome.....Nome.....
Classe.....

VERIFICA DI GEOMETRIA

1) Colora solo i poligoni: (punti 1)

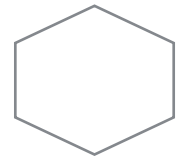
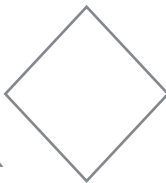


2) Definisci il poligono: (punti 1)


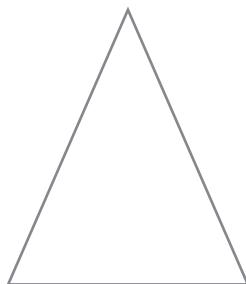
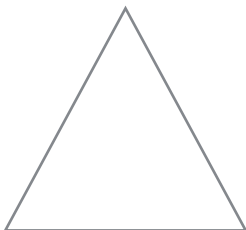
.....

.....

3) Colora di rosso i quadrilateri, di verde i triangoli e di giallo gli altri poligoni: (punti 1)



4) Scrivi il nome di ogni triangolo: (punti 3)




.....

.....

.....

5) Scrivi il nome di ogni quadrilatero: (punti 2)



.....

.....

.....

6) Completa: (punti 2)



Nome:

Lati:

Angoli:

Assi di simmetria:

Valutazione

Punti	Voto	Totale punti
10	10	Tot punti:
9	9	Voto:
8	8	Firma insegnante
7	7	
6/5	6	Firma genitore
.....< 5	5	