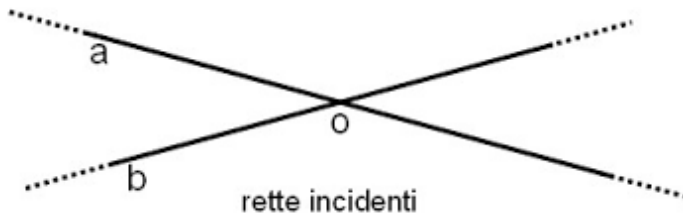


# RETTE

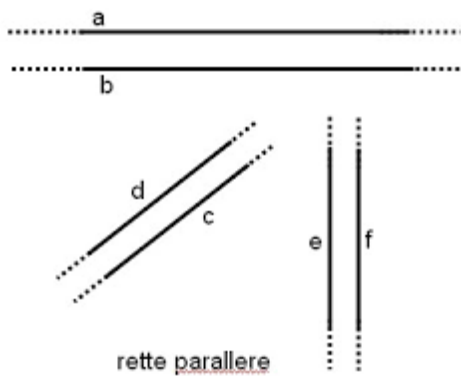
## 1) Osserva il disegno e rispondi:



1) Quante sono le coppie di rette incidenti? Risposta.....

2) La retta **b** è incidente a.....

## 2) Osserva il disegno e rispondi:



1) Quante coppie di rette parallele vedi? Risposta.....

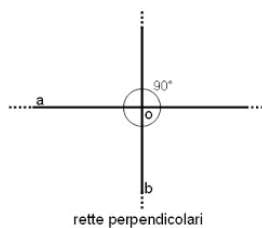
2) Dai il verso ad ogni coppia di rette.

3) Quale coppia di rette è orizzontale? Risposta.....

4) Quale coppia è verticale?

5) Quale coppia è obliqua?

## 3) Osserva il disegno e rispondi:



1) Tutte le rette perpendicolari, sono incidenti?.....

2) Tutte le rette incidenti sono perpendicolari?.....