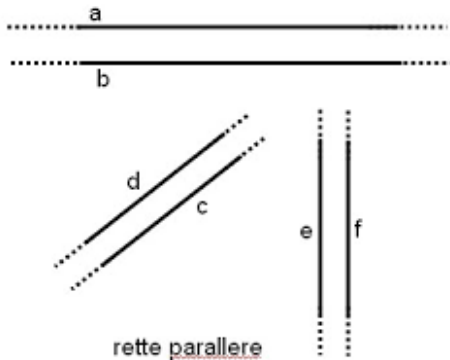


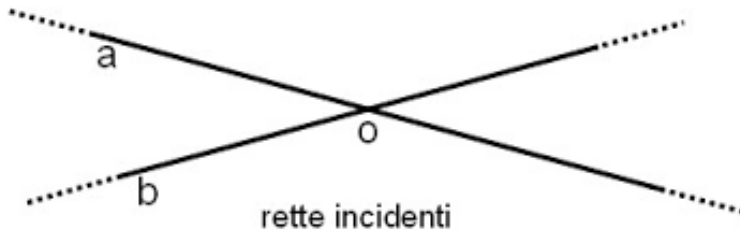
RELAZIONI TRA RETTE

Disegniamo alcune rette su un piano (scegliamo come piano o il foglio o la lavagna):
Si possono verificare queste condizioni:

1) LE RETTE NON HANNO NESSUN PUNTO IN COMUNE: **RETTE PARALLELE**



2) LE RETTE HANNO UN SOLO PUNTO IN COMUNE: **RETTE INCIDENTI**

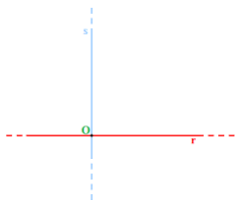


3) UN TIPO PARTICOLARE DI RETTE INCIDENTI: LE RETTE PERPENDICOLARI.

Prendi un foglio e piegalo 2 volte, esattamente a metà.

Fai ripassare le 2 piegature con due colori diversi, fai segnare il punto d'incontro, di un altro colore. Nomina le rette e il punto.

Abbiamo costruito una coppia di rette perpendicolari



Esaminiamo insieme le rette e vediamo le loro caratteristiche:

