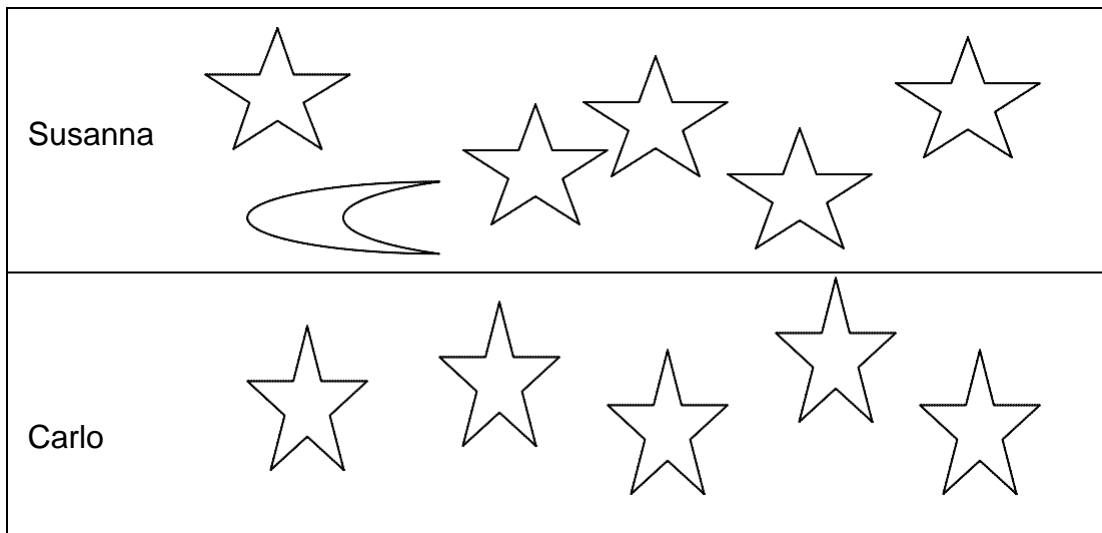


COMPRESIONE DEL TESTI

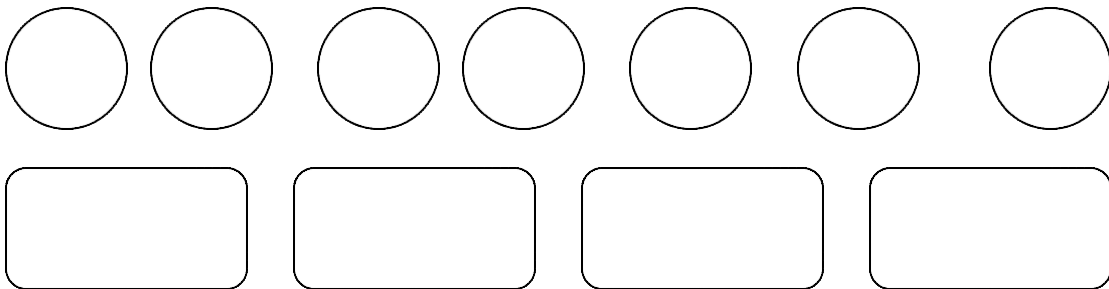
Leggi il testo con attenzione, osserva i disegni e rispondi:

Susanna e Carlo osservano il cielo:



- 1) Quante stelle ha contato Susanna?
- 2) Quanti corpi celesti ha contato Susanna?
- 3) Quante stelle ha contato Carlo?
- 4) Quanti corpi celesti hanno contato Susanna e Carlo?

Marta ha portato a scuola questi dolci; durante la ricreazione ne offre 4 ai suoi amici:



- 1) Quanti dolci ha portato Marta?
- 2) Quanti sono i dolci di forma rotonda e di forma rettangolare?
- 3) Quanti dolci potrà mangiare Maria?

NEL BOSCO A RACCOGLIERE MORE...

Antonio e Stefania, durante una passeggiata nel bosco, raccolgono more: Antonio ne raccoglie 10 e Stefania ne raccoglie 4.

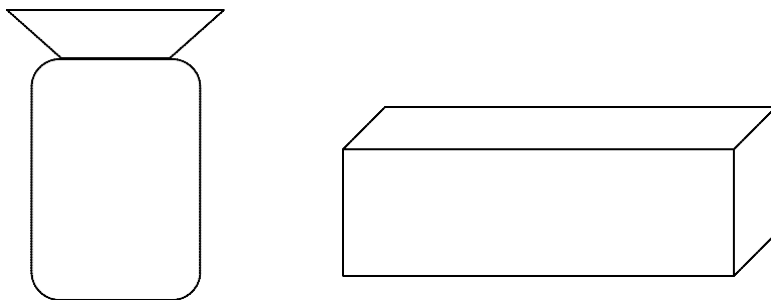
Disegna i frutti raccolti dai due bambini:

Quanti frutti hanno raccolto in tutto? Contali e rispondi: in tutto hanno raccolto...

Le palline di Lavinia

Lavinia ha 15 palline colorate: ne mette 6 in un sacchetto e sistema le altre in una scatola.

Disegna la situazione:



Quante biglie mette nella scatola? Nella scatola mette...